

Examen Bimestral

Sexto Grado

Segundo Bimestre

NOMBRE DEL ALUMNO				
GRADO		GRUPO		NÚMERO DE LISTA
ESCUELA				
FECHA				

ASIGNATURA	ACIERTOS	CALIFICACIÓN
ESPAÑOL		
MATEMÁTICAS		
CIENCIAS NATURALES		
GEOGRAFÍA		
HISTORIA		
FORMACIÓN CÍVICA Y ÉTICA		
PROMEDIO		

ESPAÑOL

LEE MUY BIEN LA NOTICIA

Viernes 18 de abril de 2008. La doctora Julia Ljubimova encontró algo inquietante al examinar los cerebros de ratas expuestas a aire contaminado: los cerebros presentaron cambios aparentemente indicativos de las primeras etapas de tumores cerebrales.

Cientos de estudios han vinculado la contaminación del aire con muertes tempranas, ataques cardíacos, función pulmonar reducida, cáncer de pulmón y varios problemas de salud

Ljubimova, oncóloga e investigadora del centro médico Cedars-Sinai de Los Ángeles, destacó que no está lista para asegurar que la contaminación del aire es causa de cáncer cerebral.

1. ¿Cuál será el título de la noticia?

- A) Las ratas mueren por contaminación ambiental
- B) Ratas expuestas al aire contaminado
- C) Cáncer cerebral en ratas
- D) Científicos vinculan contaminación con enfermedades cerebrales

2.- En la oración: **“Siento la caricia salada de las olas en la playa!”**.

Las palabras subrayadas en el orden en que están, son...

- A. Adjetivo y sustantivo
- B. Sustantivo y adjetivo
- C. Adjetivo y verbo
- D. Sustantivo y verbo

3.- Es la parte de la entrevista que contiene el conjunto de preguntas y respuestas.

- A. Introducción b. Título
- C. Cuerpo d. Cierre

4.- Es un texto que tiene indicaciones para realizar acciones, fabricar o armar algo o preparar alimentos o productos

- A. Historieta b. Instructivo
- C. Resumen d. Guión teatral

5.- En la oración **“Carlos tiene hambre”**, ¿Cuál palabra puede sustituir a la subrayada sin que la oración pierda sentido?

- A. Migraña b. Apetito
- C. Acidez d. Inapetencia

6.- De los siguientes textos, el instructivo está señalado con la letra:

A Los ojazos de mi negra se parecen a mis males, grandes como mis tormentos negros como mis pesares.

B. Hay un montón de manzanas en un árbol y de repente una se cae. Todas las de arriba empiezan a reírse y a burlarse de la que se ha caído y ésta responde:

No se rían, ¡Inmaduras!

C. Estaba asentada un águila en el pico de un peñasco esperando por la llegada de las liebres. Mas la vio un cazador, y lanzándole una flecha le atravesó su cuerpo. Viendo el águila entonces que la flecha estaba construida con plumas de su propia especie exclamó:-- ¡Qué tristeza terminar mis días por causa de mis plumas! Más profundo es nuestro dolor cuando nos vencen con nuestras propias armas.

D. Poner a hervir dos tazas de agua. Enseguida agregar el polvo de dos paquetes de gelatina. Batir muy bien hasta que desaparezcan los grumos; agregar dos tazas de agua fría. Verter en un molde, refrigerar durante dos horas y ¡Listo!

7.- Se compone, entre otras cosas, de una serie de preguntas que se hacen a una persona para obtener datos sobre un tema determinado, o para conocer su opinión sobre un asunto

- A. Historieta b. Entrevista
- C. Informe d. Instructivo

8.- En la siguiente ficha bibliográfica.

GARZA, MERCEDES DE LA “MAYAS Y AZTECAS” MÉXICO, 1990 COLECCIÓN COLIBRÍ

El dato que falta es:

- A. Nombre del autor b. Título
- C. Año de publicación d. Editorial

9.- En un cuento, es la parte más importante del relato; en ella se presentan las aventuras o problemas a los que se enfrentan los personajes

- A. Nudo
- b. Planteamiento
- C. Desenlace
- d. Trama

LEE CON ATENCIÓN

El señor Don Juan expresó que siente mucho haber dejado Zacatecas, su lugar de nacimiento, pues él cree que dejó una parte de su corazón *“En Sonora soy un impostor, un extranjero que no acaba de adaptarse al desierto, al valle, al béisbol y a los tacos de carne asada. Pero bueno, soy sonorense y me gusta el fútbol.”*

10.- ¿Cuál es el uso que se le da a las comillas en el texto?

- A) Para resaltar algo en un texto.
- B) Para hablar en sentido figurado.
- C) Para cuando se piensa algo y no se dice.
- D) Para señalar textualmente lo dicho por el entrevistado.

11.- Por el comentario de Don Juana, suena interesante investigar sobre Zacatecas: ubicación, cultura, población, clima, naturaleza y muchas más características.

¿Qué utilizarías para conocer más acerca de la ciudad donde nació Don Juan?

- A) Entrevista
- B) Monografía.
- C) Encuesta.
- D) Cuestionario.

12.- En un guión de entrevista los signos que se usan más son

- A) Las comas y los puntos
- B) Los de Interrogación
- C) Los de Admiración
- D) Los acentos

GELATINA

Poner a hervir dos tazas de agua.

Enseguida **agregar** el polvo de dos paquetes de gelatina.

Batir muy bien hasta que desaparezcan los grumos; **agregar** dos tazas de agua fría.

Vaciar en un molde, **refrigerar** durante dos horas y ¡Listo!

13.- Las palabras que aparecen en negritas son

- A) Adjetivos Calificativos
- B) Pronombres
- C) Verbos
- D) Nexos

LEE CON ATENCIÓN Y CONTESTA

Los ojazos de mi negra se parecen a mis males, grandes como mis tormentos negros como mis pesares.

Esos ojazos, qué me han dado tus **luceros nocturnos**, que me han vuelto loco y estoy enamorado.

14.- La palabra resaltada corresponde a

- A) Una metáfora
- B) Una novela
- C) Un poema
- D) Una historia

15.- Dentro de un cuento, historia o novela, es el personaje que maneja valores contrarios al personaje principal. Puede ser otro u otros personajes o situaciones como el destino, la sociedad, la actitud resignada del personaje, sus miedos, sus angustias, o inclusive muchas veces representa la maldad.

- A) Protagonico
- B) Principal
- C) Antagonico
- D) Secundario

Observa la siguiente tabla y contesta las preguntas

INFORMACIÓN NUTRIMENTAL DE LA LECHE		
Por porción 250 ml		
		%
Contenido energético	601.75 kJ (142.0 kcal)	
Carbohidratos	(Hidratos de carbono) 12.0 g	
Proteínas	7.75 g	10.30
Lípidos	(Grasas) 7.0 g	
Calcio	275 mg	34.37
Sodio	125 mg	
Vitamina A	(equivalentes de retinol) 150 µg	15.0
Vitamina D	1.56 µg	

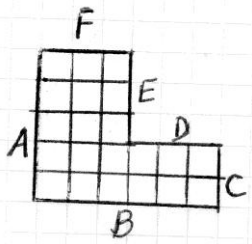
*% Ingesta Diaria Recomendada para la Población Mexicana

24.- Si una porción de leche contribuye al 15 % de la ingesta diaria de Vitamina A.

¿Cuántos microgramos de vitamina A tenemos que consumir en un día?

- A) 150 µg C) 900 µg
 B) 600 µg D) 1,000 µg

25.- Observa la siguiente figura:



Se hizo un dibujo a escala de esta figura y la medida del lado "A" aumentó a 15 cuadritos. ¿A cuántos cuadritos aumentara el lado "B"?

- A. 30 B. 21 C. 18 D. 16

26.- Tenemos dos triángulos equiláteros y el primero de ellos mide 4 cm. de base y 3cm. de altura, el segundo triángulo mide 8cm. de base y 6cm. de altura.

¿Cuál es el factor de escala que permite pasar del primero al segundo triángulo?

- A. LAS MEDIDAS SE DIVIDEN ENTRE 2.
 B. LAS MEDIDAS SE MULTIPLICAN POR 2.
 C. NO ESTAN A ESCALA
 D. NINGUNA DE LAS ANTERIORES

27.- En una joyería, con 90 eslabones se hacen 3 cadenas, con 180 eslabones se hacen 6 cadenas, con 270 eslabones se hacen 9 cadenas. ¿Cuál de las siguientes tablas representa **correctamente** la variación proporcional para 5, 7 y 8 cadenas?

- A.

Cadenas	Eslabones
5	150
7	210
8	240
- B.

Cadenas	Eslabones
5	160
7	220
8	230
- C.

Cadenas	Eslabones
5	170
7	230
8	250
- D.

Cadenas	Eslabones
5	140
7	200
8	260

28.- Un circuito para carreras de automóviles tiene 18 Km de longitud. Los datos que completan correctamente la siguiente tabla se encuentran en la opción

NUMERO DE VUELTAS	DISTANCIA RECORRIDA
1	18 km
	9 km
1 ½	
1/3	

- A. ¼ , 9km, 3km
 B. ½ , 27km, 6km
 C. 1 ½ , 108km, 3km
 D. ½ , 22.5 km, 9km

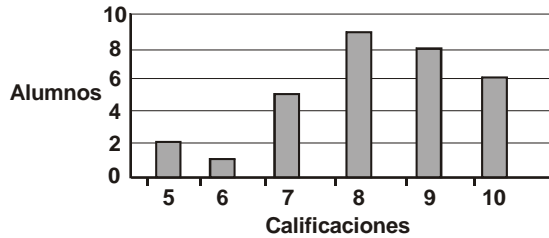
29.- Los alumnos de sexto grado hicieron una encuesta que representaron en la siguiente tabla:

MEDIDA DEL CALZADO	FRECUENCIA
22	3
23	7
24	12
25	9
26	6
27	2

La mediana del grupo es:

- A. 23
 B. 24
 C. 25
 D. 26

La siguiente gráfica representa las calificaciones de Matemáticas del grupo de 6to grado "A".



30.- ¿Cuál es el promedio general del grupo de sexto grado "A" en Matemáticas?

- A) 8.2 C) 8.4
B) 8.3 D) 8.5

CIENCIAS NATURALES

31.- Se cree que el Universo se formó a partir de una gran explosión que ocurrió hace aproximadamente:

- A. 1000 MILLONES DE AÑOS
B. 4000 MILLONES DE AÑOS
C. 15000 MILLONES DE AÑOS
D. 100 MILLONES DE AÑOS

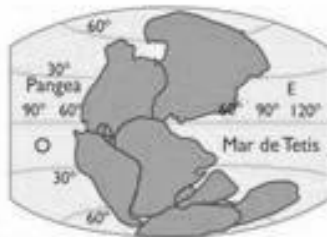
32.- La galaxia en que se encuentra el Sistema Solar se llama:

- A. ANDROMEDA B. VÍA LÁCTEA
C. VIRGO D. NUBES DE MAGALLANES

33.- Se cree que en sus orígenes, la Tierra era:

- A. MÁS GRANDE B. MÁS FRÍA
C. MÁS CALIENTE D. MÁS POBLADA

34.- Se supone que hace muchos millones de años, toda la masa de tierra estaba unida en un solo continente


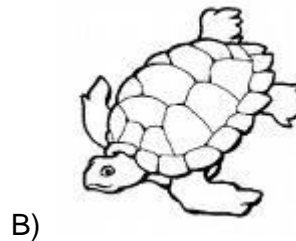

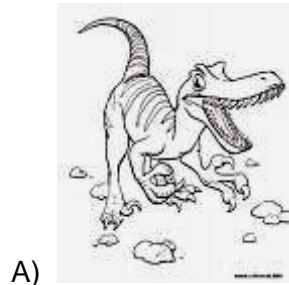


- A. GONDWANA B. LAURASIA
C. PANGAEA D. EUROPA

35.- Son restos de plantas y animales que quedaron enterrados hace miles de años en los sedimentos.

- A. HUESOS B. PIEDRAS
C. RESTOS ARQUEOLÓGICOS D. FÓSILES

36.- ¿Cuál de los siguientes animales está en peligro de extinción?



37.- La era geológica en que vivieron los dinosaurios fue la:

- A. CENOZÓICA B. MESOZÓICA
C. PALEOZÓICA D. PRECÁMBRICA

38.- Es un proceso que conduce a la supervivencia de los organismos mejor adaptados a su ambiente

- A. EXTINCIÓN B. EVOLUCIÓN
C. SELECCIÓN NATURAL D. FOSILIZACIÓN

39.- Naturalista inglés que enunció una teoría sobre la evolución de las especies

- A. ENGELS B. DARWIN
C. MARX D. GALILEO

40.- Proceso en que por causas diversas desaparecen especies animales o vegetales de la faz de la Tierra

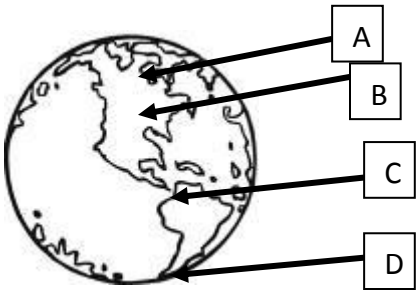
- A. EXTINCIÓN B. EVOLUCIÓN
C. SELECCIÓN NATURAL D. FOSILIZACIÓN

GEOGRAFÍA

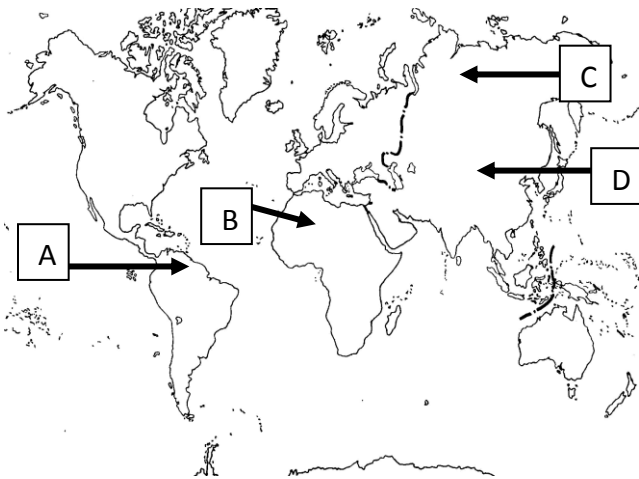
41.- Es el componente que determina los tipos de animales y plantas que hay en una región determinada

- A. LLUVIA
- B. AGUA
- C. CLIMA
- D. VIENTO

42.- Zona terrestre donde se presenta el clima cálido



Observa el mapa y contesta.




43.- ¿Con qué letra está señalada la región que durante los meses invernales se caracterizan por la falta de vegetación y una gruesa capa de hielo?

44.- Es la región natural donde aparece el mayor número de especies animales y vegetales. Se caracteriza por grandes árboles y porque llueve durante la mayor parte del año y tener clima cálido húmedo.

- A. ESTEPA
- B. SELVA HÚMEDA
- C. SABANA
- D. DESIERTO

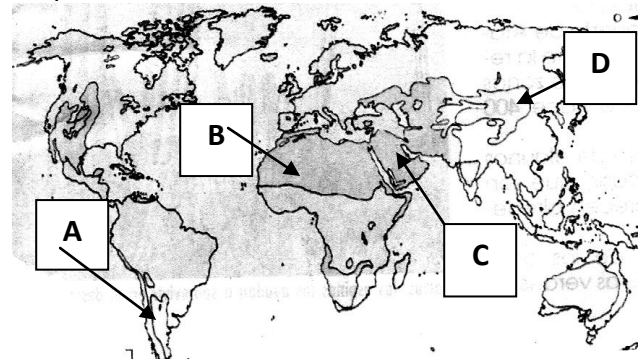
45.- De los siguientes animales el que no habita en los bosques templados es:



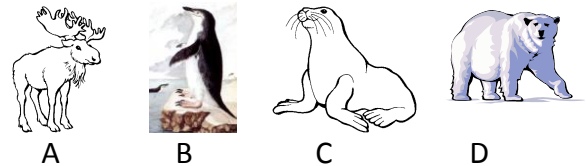
46.- Región fría donde la temperatura permanece por debajo de los 0° centígrados durante la mayor parte del año

- A. ESTEPA
- B. TAIGA
- C. TUNDRA
- D. PRADERA

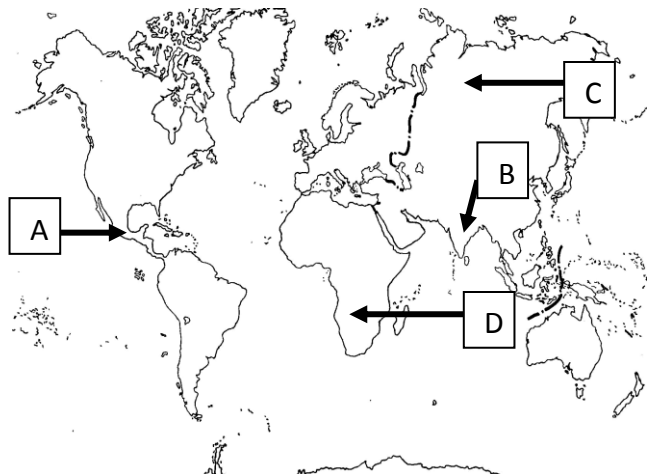
47.- El desierto del Sahara está señalado en el mapa con la letra



48.- Animal de clima polar, que habita solamente en el polo sur



49.- En el siguiente mapa señala ¿cuáles son los dos países que tienen regiones naturales semejantes?



50.- ¿Cuál de los siguientes países **no** es MEGADIVERSO?

- A) México C) Canadá
B) Madagascar D) Australia

51.- México es un país rico en:

- A) Mamíferos C) Insectos
B) Aves D) Réptiles

52.- Indica cuál es un recurso natural NO RENOVABLE

- A. EL PETRÓLEO B. LOS RAYOS SOLARES
C. EL ALCOHOL D. EL VIENTO

53.- Países con alto desarrollo industrial

- A. BRASIL, ARGENTINA Y MÉXICO
B. KENIA, MONGOLIA Y NUEVA ZELANDA
C. HUNGRÍA, CHILE Y SINGAPUR
D. CANADÁ, ALEMANIA Y FRANCIA

54.- México es el primer productor mundial de:

- A. ORO B. PLATA
C. PETRÓLEO D. CARBÓN MINERAL

55.- Los energéticos, al igual que los recursos naturales, se dividen en tres grupos: no renovables, renovables y permanentes.

¿Cuáles son recursos naturales permanentes y fuentes de energía utilizados por el hombre?

- A) Petróleo y gas.
B) Viento y sol.
C) Mar y diesel.
D) Agua y oro.

HISTORIA

56.- Lugar en donde se cree que nacieron las primeras ciudades

- A. EGIPTO
B. MÉXICO
C. MESOPOTAMIA
D. ESTADOS UNIDOS

57.- Fue una ciudad importante de Mesopotamia

- A. BABILONIA
B. TEBAS
C. TENOCHTITLAN
D. CUZCO

58.- De las tablas de abajo, la que tiene la información correcta en cuanto a la ubicación de ríos en las culturas antiguas, es:

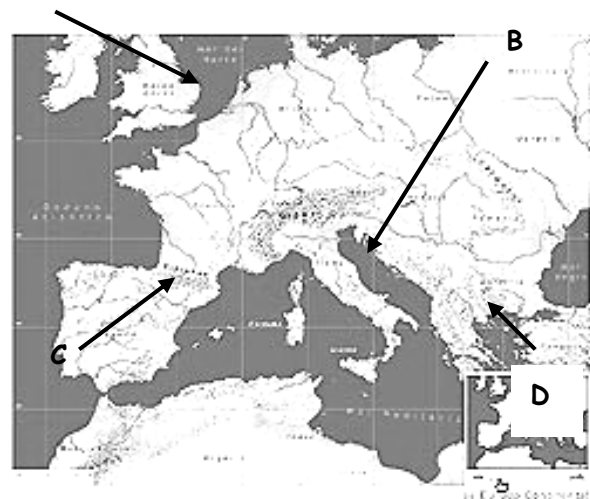
A		B	
Mesopotamia	Hoang Ho	Mesopotamia	Eúfrates
Egipto	Nilo	Egipto	Nilo
China	Eúfrates	China	Hoang Ho

C		D	
Mesopotamia	Hoang Ho	Mesopotamia	Nilo
Egipto	Eúfrates	Egipto	Hoang Ho
China	Nilo	China	Eúfrates

59.- Alimento base de la población de China

- A. MAÍZ B. SORGO
C. FRIJOL D. ARROZ

60.- En el mapa, el territorio habitado por la civilización Griega está señalado con la letra:



61.- La civilización griega también es conocida con el nombre de:

- A. MICÉNICA B. CRETENSE
C. HELÉNICA D. MEDITERRÁNEA

62.- Las ciudades más importantes de los griegos fueron:

- A. ESPARTA Y ATENAS
- B. ROMA Y MILÁN
- C. TIRO Y SIDÓN
- D. BABILONIA Y LAGASH

63.- Rey de Grecia, hijo de Filipo, que logró dar su máxima extensión al Imperio Griego

- A. POMPEYO
- B. MARCO ANTONIO
- C. TIBERIO
- D. ALEJANDRO

64.- El idioma español se originó del idioma de los romanos, que se llamaba:

- A. LATÍN
- B. INGLÉS
- C. HEBREO
- D. FRANCO

65.- Fue el primer emperador Romano

- A. NERÓN
- B. JULIO CÉSAR
- C. CALÍGULA
- D. OCTAVIO

66. Eran el grupo social más poderoso de los reinos de la Edad Media

- A. REYES
- B. GUERREROS
- C. FEUDALES
- D. CLÉRIGOS

67.- Las civilizaciones antiguas dejaron una gran herencia cultural, pues muchas de sus aportaciones aún están vigentes. Por ejemplo la numeración arábiga procede de:

- A. LA INDIA
- B. GRECIA
- C. CHINA
- D. ARABIA

68.- De cuál civilización heredamos el papel, elaborado con trozos de telas, corteza de árboles y bambú; la pólvora, la imprenta rudimentaria y la brújula.

- A. LA INDIA
- B. GRECIA
- C. ROMA
- D. CHINA

69.- ¿Qué civilización nos dejó como herencia la democracia, la forma de gobierno más usual en la actualidad?

- A. LA INDIA
- B. GRECIA
- C. ROMA
- D. CHINA

Observa el orden cronológico conforme la aparición de las civilizaciones.

1.- MESOPOTAMIA

- 1. EGIPTO
- 3.
- 4. CHINA
- 5. ROMA

70.- ¿Con qué letra está señalada la civilización para completar correctamente el orden cronológico?

- A. ARABIA
- B. INDIA
- C. GRECIA
- D. JAPÓN

FORMACIÓN CÍVICA Y ÉTICA

71.- Los seres humanos nos autorregulamos, pero quien primero te enseña a comportarte en privado y en público es:

- A) LA ESCUELA
- B) EN LA CALLE
- C) CON TUS AMIGOS
- D) LA FAMILIA

72.- Miguel es un joven que jugando con sus amigos hizo una broma bastante fuerte. Pero esta broma tuvo consecuencias serias, sus padres le han enseñado que debe de responder por sus actos y ser:

- A) VALIENTE
- B) RESPONSABLE
- C) CUMPLIDO
- D) RESPETUOSO

73.- A la hora del recreo nadie quiso jugar con Andrés porque es un niño que no controla sus impulsos y sus actos, sus compañeros le dijeron que para volver a jugar con él, primero tiene que enseñarse a:

- A) SER LIBRE
- B) SER HONESTO
- C) AUTOREGULARSE
- D) NO PELEAR

74.- Hablamos de principios éticos cuando

- A) Reconocemos la libertad
- B) Conocer todos los valores
- C) Distinguir lo correcto de lo que no lo es.
- D) Causamos lesiones a los derechos de los demás.

75.- Es un valor social que consiste en respetar las opiniones de los demás, aunque no estén de acuerdo con nuestras ideas.

- A. TOLERANCIA
- B. RESPONSABILIDAD
- C. LIBERTAD
- D. CONVIVENCIA

76.- Es el documento que contiene las leyes que regulan la vida de todos los mexicanos

- A. LEY DEL ISSSTE
- B. LEY DEL SEGURO SOCIAL
- C. PROGRAMA NACIONAL DE EDUCACIÓN
- D. CONSTITUCIÓN POLÍTICA DE MÉXICO

77.- Es el poder encargado de procurar la justicia en nuestro país

- A. EJECUTIVO
- B. LEGISLATIVO
- C. JUDICIAL
- D. FEDERAL

78.- Sirve para medir el progreso general de un país, el bienestar logrado en las condiciones de vida de sus habitantes, y califica la calidad de vida de la población, con base en estos indicadores: salud y esperanza de vida, educación e ingreso económico.

- A) COMISION NACIONAL DE DERECHOS HUMANOS
- B) INDICE DE DESARROLLO HUMANO
- C) LA INEGI
- D) EL INSTITUTO FEDERAL ELECTORAL

79.- ¿Cuál de los siguientes NO es un derecho de jornaleras o jornales agrícolas?

- A) Trabajo digno
- B) Jornada de trabajo de 12 horas como máximo
- C) Un día de descanso a la semana
- D) Recibir servicios de salud y seguridad social.

Los habitantes del pueblo de San Javier se dedican a la agricultura de temporal; en los últimos años no ha llovido y la gran mayoría ha tenido que dejar el lugar para vivir permanentemente en la ciudad, donde carecen de muchos servicios.

80. ¿Qué nombre recibe el cambio de domicilio de los habitantes del pueblo a la ciudad?

- A) INMIGRACIÓN
- B) ABANDONO
- C) MIGRACIÓN
- D) CAMBIO

HOJA DE RESPUESTAS

NOMBRE DEL ALUMNO					
GRADO		GRUPO		NÚMERO DE LISTA	
ESCUELA					
FECHA					

INSTRUCCIONES.- RELLENA EN CADA PREGUNTA SÓLO UN ÓVALO QUE INDIQUE LA RESPUESTA CORRECTA.

ESPAÑOL					24	<input type="radio"/> A	<input type="radio"/> B	<input type="radio"/> C	<input type="radio"/> D	47	<input type="radio"/> A	<input type="radio"/> B	<input type="radio"/> C	<input type="radio"/> D	FORMACIÓN CÍVICA				
1	<input type="radio"/> A	<input type="radio"/> B	<input type="radio"/> C	<input type="radio"/> D	25	<input type="radio"/> A	<input type="radio"/> B	<input type="radio"/> C	<input type="radio"/> D	48	<input type="radio"/> A	<input type="radio"/> B	<input type="radio"/> C	<input type="radio"/> D	71	<input type="radio"/> A	<input type="radio"/> B	<input type="radio"/> C	<input type="radio"/> D
2	<input type="radio"/> A	<input type="radio"/> B	<input type="radio"/> C	<input type="radio"/> D	26	<input type="radio"/> A	<input type="radio"/> B	<input type="radio"/> C	<input type="radio"/> D	49	<input type="radio"/> A	<input type="radio"/> B	<input type="radio"/> C	<input type="radio"/> D	72	<input type="radio"/> A	<input type="radio"/> B	<input type="radio"/> C	<input type="radio"/> D
3	<input type="radio"/> A	<input type="radio"/> B	<input type="radio"/> C	<input type="radio"/> D	27	<input type="radio"/> A	<input type="radio"/> B	<input type="radio"/> C	<input type="radio"/> D	50	<input type="radio"/> A	<input type="radio"/> B	<input type="radio"/> C	<input type="radio"/> D	73	<input type="radio"/> A	<input type="radio"/> B	<input type="radio"/> C	<input type="radio"/> D
4	<input type="radio"/> A	<input type="radio"/> B	<input type="radio"/> C	<input type="radio"/> D	28	<input type="radio"/> A	<input type="radio"/> B	<input type="radio"/> C	<input type="radio"/> D	51	<input type="radio"/> A	<input type="radio"/> B	<input type="radio"/> C	<input type="radio"/> D	74	<input type="radio"/> A	<input type="radio"/> B	<input type="radio"/> C	<input type="radio"/> D
5	<input type="radio"/> A	<input type="radio"/> B	<input type="radio"/> C	<input type="radio"/> D	29	<input type="radio"/> A	<input type="radio"/> B	<input type="radio"/> C	<input type="radio"/> D	52	<input type="radio"/> A	<input type="radio"/> B	<input type="radio"/> C	<input type="radio"/> D	75	<input type="radio"/> A	<input type="radio"/> B	<input type="radio"/> C	<input type="radio"/> D
6	<input type="radio"/> A	<input type="radio"/> B	<input type="radio"/> C	<input type="radio"/> D	30	<input type="radio"/> A	<input type="radio"/> B	<input type="radio"/> C	<input type="radio"/> D	53	<input type="radio"/> A	<input type="radio"/> B	<input type="radio"/> C	<input type="radio"/> D	76	<input type="radio"/> A	<input type="radio"/> B	<input type="radio"/> C	<input type="radio"/> D
7	<input type="radio"/> A	<input type="radio"/> B	<input type="radio"/> C	<input type="radio"/> D	CIENCIAS NATURALES					54	<input type="radio"/> A	<input type="radio"/> B	<input type="radio"/> C	<input type="radio"/> D	77	<input type="radio"/> A	<input type="radio"/> B	<input type="radio"/> C	<input type="radio"/> D
8	<input type="radio"/> A	<input type="radio"/> B	<input type="radio"/> C	<input type="radio"/> D	31	<input type="radio"/> A	<input type="radio"/> B	<input type="radio"/> C	<input type="radio"/> D	55	<input type="radio"/> A	<input type="radio"/> B	<input type="radio"/> C	<input type="radio"/> D	78	<input type="radio"/> A	<input type="radio"/> B	<input type="radio"/> C	<input type="radio"/> D
9	<input type="radio"/> A	<input type="radio"/> B	<input type="radio"/> C	<input type="radio"/> D	32	<input type="radio"/> A	<input type="radio"/> B	<input type="radio"/> C	<input type="radio"/> D	HISTORIA					79	<input type="radio"/> A	<input type="radio"/> B	<input type="radio"/> C	<input type="radio"/> D
10	<input type="radio"/> A	<input type="radio"/> B	<input type="radio"/> C	<input type="radio"/> D	33	<input type="radio"/> A	<input type="radio"/> B	<input type="radio"/> C	<input type="radio"/> D	56	<input type="radio"/> A	<input type="radio"/> B	<input type="radio"/> C	<input type="radio"/> D	80	<input type="radio"/> A	<input type="radio"/> B	<input type="radio"/> C	<input type="radio"/> D
11	<input type="radio"/> A	<input type="radio"/> B	<input type="radio"/> C	<input type="radio"/> D	34	<input type="radio"/> A	<input type="radio"/> B	<input type="radio"/> C	<input type="radio"/> D	57	<input type="radio"/> A	<input type="radio"/> B	<input type="radio"/> C	<input type="radio"/> D					
12	<input type="radio"/> A	<input type="radio"/> B	<input type="radio"/> C	<input type="radio"/> D	35	<input type="radio"/> A	<input type="radio"/> B	<input type="radio"/> C	<input type="radio"/> D	58	<input type="radio"/> A	<input type="radio"/> B	<input type="radio"/> C	<input type="radio"/> D					
13	<input type="radio"/> A	<input type="radio"/> B	<input type="radio"/> C	<input type="radio"/> D	36	<input type="radio"/> A	<input type="radio"/> B	<input type="radio"/> C	<input type="radio"/> D	59	<input type="radio"/> A	<input type="radio"/> B	<input type="radio"/> C	<input type="radio"/> D					
14	<input type="radio"/> A	<input type="radio"/> B	<input type="radio"/> C	<input type="radio"/> D	37	<input type="radio"/> A	<input type="radio"/> B	<input type="radio"/> C	<input type="radio"/> D	60	<input type="radio"/> A	<input type="radio"/> B	<input type="radio"/> C	<input type="radio"/> D					
15	<input type="radio"/> A	<input type="radio"/> B	<input type="radio"/> C	<input type="radio"/> D	38	<input type="radio"/> A	<input type="radio"/> B	<input type="radio"/> C	<input type="radio"/> D	61	<input type="radio"/> A	<input type="radio"/> B	<input type="radio"/> C	<input type="radio"/> D					
MATEMÁTICAS					39	<input type="radio"/> A	<input type="radio"/> B	<input type="radio"/> C	<input type="radio"/> D	62	<input type="radio"/> A	<input type="radio"/> B	<input type="radio"/> C	<input type="radio"/> D					
16	<input type="radio"/> A	<input type="radio"/> B	<input type="radio"/> C	<input type="radio"/> D	40	<input type="radio"/> A	<input type="radio"/> B	<input type="radio"/> C	<input type="radio"/> D	63	<input type="radio"/> A	<input type="radio"/> B	<input type="radio"/> C	<input type="radio"/> D					
17	<input type="radio"/> A	<input type="radio"/> B	<input type="radio"/> C	<input type="radio"/> D	GEOGRAFÍA					64	<input type="radio"/> A	<input type="radio"/> B	<input type="radio"/> C	<input type="radio"/> D					
18	<input type="radio"/> A	<input type="radio"/> B	<input type="radio"/> C	<input type="radio"/> D	41	<input type="radio"/> A	<input type="radio"/> B	<input type="radio"/> C	<input type="radio"/> D	65	<input type="radio"/> A	<input type="radio"/> B	<input type="radio"/> C	<input type="radio"/> D					
19	<input type="radio"/> A	<input type="radio"/> B	<input type="radio"/> C	<input type="radio"/> D	42	<input type="radio"/> A	<input type="radio"/> B	<input type="radio"/> C	<input type="radio"/> D	66	<input type="radio"/> A	<input type="radio"/> B	<input type="radio"/> C	<input type="radio"/> D					
20	<input type="radio"/> A	<input type="radio"/> B	<input type="radio"/> C	<input type="radio"/> D	43	<input type="radio"/> A	<input type="radio"/> B	<input type="radio"/> C	<input type="radio"/> D	67	<input type="radio"/> A	<input type="radio"/> B	<input type="radio"/> C	<input type="radio"/> D					
21	<input type="radio"/> A	<input type="radio"/> B	<input type="radio"/> C	<input type="radio"/> D	44	<input type="radio"/> A	<input type="radio"/> B	<input type="radio"/> C	<input type="radio"/> D	68	<input type="radio"/> A	<input type="radio"/> B	<input type="radio"/> C	<input type="radio"/> D					
22	<input type="radio"/> A	<input type="radio"/> B	<input type="radio"/> C	<input type="radio"/> D	45	<input type="radio"/> A	<input type="radio"/> B	<input type="radio"/> C	<input type="radio"/> D	69	<input type="radio"/> A	<input type="radio"/> B	<input type="radio"/> C	<input type="radio"/> D					
23	<input type="radio"/> A	<input type="radio"/> B	<input type="radio"/> C	<input type="radio"/> D	46	<input type="radio"/> A	<input type="radio"/> B	<input type="radio"/> C	<input type="radio"/> D	70	<input type="radio"/> A	<input type="radio"/> B	<input type="radio"/> C	<input type="radio"/> D					